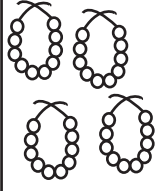



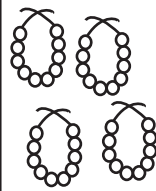

## حساب

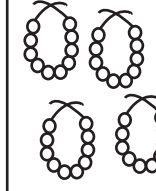

درجہ-1

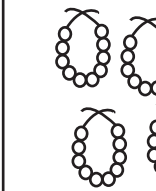

تاریخ:

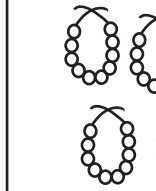

دن-123

		41
<input type="text" value="40"/>	<input type="text" value="1"/>	

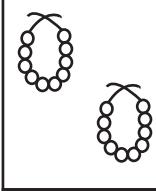

		
<input type="text"/>	<input type="text"/>	



		
<input type="text"/>	<input type="text"/>	

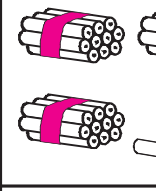
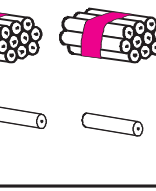
		
<input type="text"/>	<input type="text"/>	

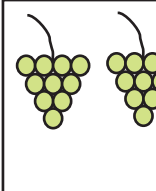

		
<input type="text"/>	<input type="text"/>	

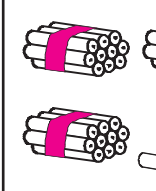
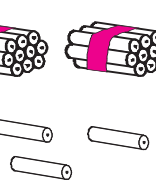
دھائی اور اکائی گن کر لکھئے، پھر عدد بنا کر نیچے  میں لکھئے۔

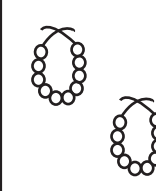
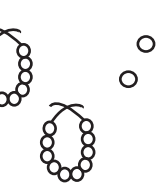
	
دھائی	اکائی
<input type="text"/>	<input type="text"/>

	
دھائی	اکائی
<input type="text"/>	<input type="text"/>

	
دھائی	اکائی
<input type="text"/>	<input type="text"/>

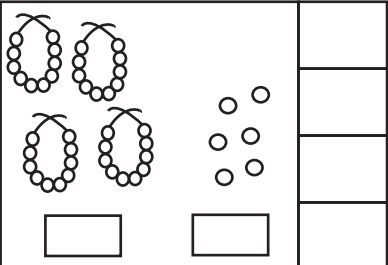
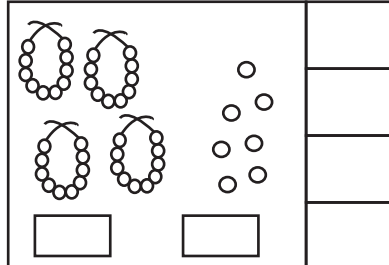
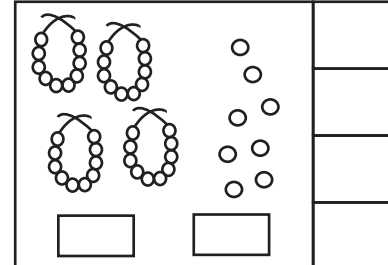
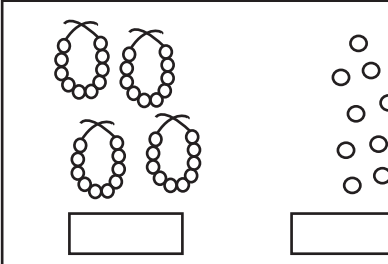
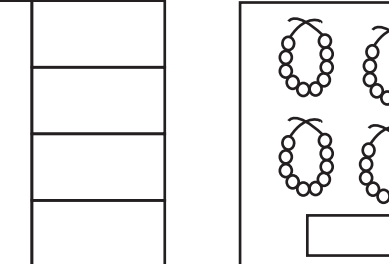
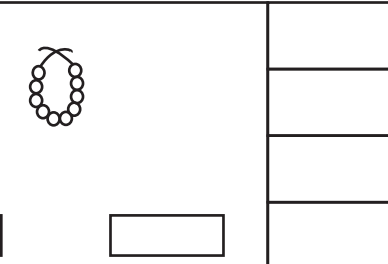
	
دھائی	اکائی
<input type="text"/>	<input type="text"/>

	
دھائی	اکائی
<input type="text"/>	<input type="text"/>

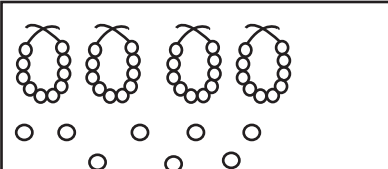
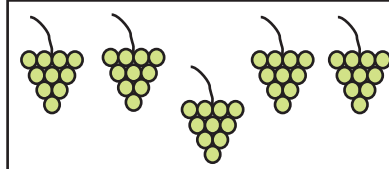
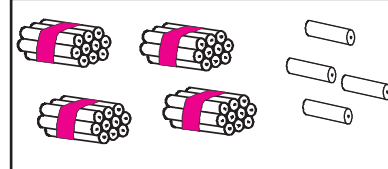
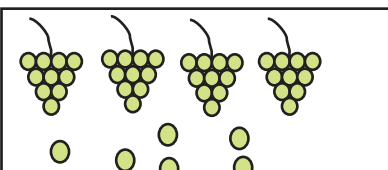
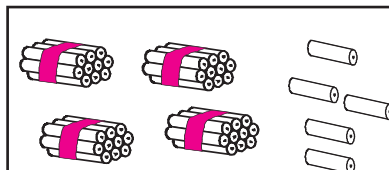
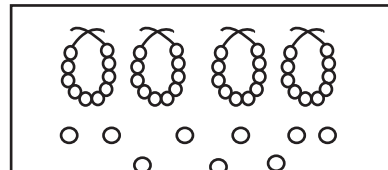
	
دھائی	اکائی
<input type="text"/>	<input type="text"/>

هدایات برائے تدریس: (1) موضوع کی سمجھ: 41 سے 45- دن 101 کے مطابق کرائیں۔

(2) اجتماعی شغل: کارکردگی-6 دیکھیں۔

 <input style="width: 40px; height: 20px;" type="text"/>	 <input style="width: 40px; height: 20px;" type="text"/>	 <input style="width: 40px; height: 20px;" type="text"/>
 <input style="width: 40px; height: 20px;" type="text"/>	 <input style="width: 40px; height: 20px;" type="text"/>	 <input style="width: 40px; height: 20px;" type="text"/>

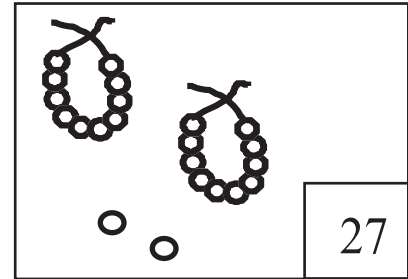
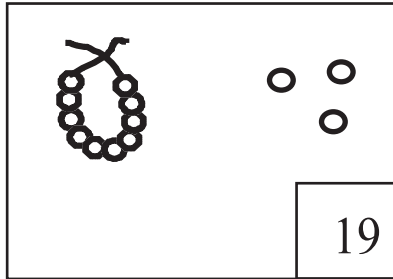
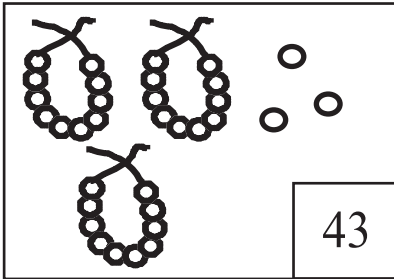
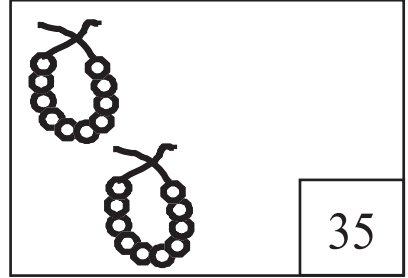
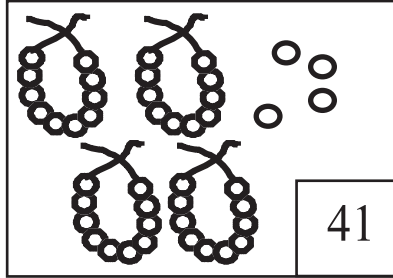
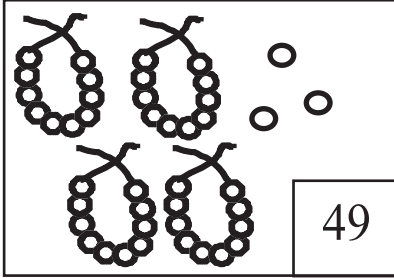
دھائی اور اکائی گن کر لکھئے، پھر عدد بنا کر نیچے  میں لکھئے۔

 <table border="1" style="width: 100%; border-collapse: collapse;"> <tr> <td style="width: 50%; text-align: center;">دھائی</td> <td style="width: 50%; text-align: center;">اکائی</td> </tr> <tr> <td style="height: 20px;"></td> <td style="height: 20px;"></td> </tr> </table> <input style="width: 60px; height: 20px;" type="text"/>	دھائی	اکائی			 <table border="1" style="width: 100%; border-collapse: collapse;"> <tr> <td style="width: 50%; text-align: center;">دھائی</td> <td style="width: 50%; text-align: center;">اکائی</td> </tr> <tr> <td style="height: 20px;"></td> <td style="height: 20px;"></td> </tr> </table> <input style="width: 60px; height: 20px;" type="text"/>	دھائی	اکائی			 <table border="1" style="width: 100%; border-collapse: collapse;"> <tr> <td style="width: 50%; text-align: center;">دھائی</td> <td style="width: 50%; text-align: center;">اکائی</td> </tr> <tr> <td style="height: 20px;"></td> <td style="height: 20px;"></td> </tr> </table> <input style="width: 60px; height: 20px;" type="text"/>	دھائی	اکائی		
دھائی	اکائی													
دھائی	اکائی													
دھائی	اکائی													
 <table border="1" style="width: 100%; border-collapse: collapse;"> <tr> <td style="width: 50%; text-align: center;">دھائی</td> <td style="width: 50%; text-align: center;">اکائی</td> </tr> <tr> <td style="height: 20px;"></td> <td style="height: 20px;"></td> </tr> </table> <input style="width: 60px; height: 20px;" type="text"/>	دھائی	اکائی			 <table border="1" style="width: 100%; border-collapse: collapse;"> <tr> <td style="width: 50%; text-align: center;">دھائی</td> <td style="width: 50%; text-align: center;">اکائی</td> </tr> <tr> <td style="height: 20px;"></td> <td style="height: 20px;"></td> </tr> </table> <input style="width: 60px; height: 20px;" type="text"/>	دھائی	اکائی			 <table border="1" style="width: 100%; border-collapse: collapse;"> <tr> <td style="width: 50%; text-align: center;">دھائی</td> <td style="width: 50%; text-align: center;">اکائی</td> </tr> <tr> <td style="height: 20px;"></td> <td style="height: 20px;"></td> </tr> </table> <input style="width: 60px; height: 20px;" type="text"/>	دھائی	اکائی		
دھائی	اکائی													
دھائی	اکائی													
دھائی	اکائی													

ہدایات برائے تدریس: (1) موضوع کی سمجھ: عدد 45 سے 50- دن 102 کے مطابق کر آئیں۔

(2) اجتماعی شغل: کارکردگی-6 دیکھیں۔

عدد کے مطابق موتی یا مالا بنائیے یا کاتئے۔



ٹھیک پہلے کا عدد لکھئے

ٹھیک بعد کا عدد لکھئے

درمیانی عدد لکھئے

	43
--	----

47	
----	--

48		50
----	--	----

	46
--	----

44	
----	--

40		42
----	--	----

	50
--	----

43	
----	--

46		48
----	--	----

	40
--	----

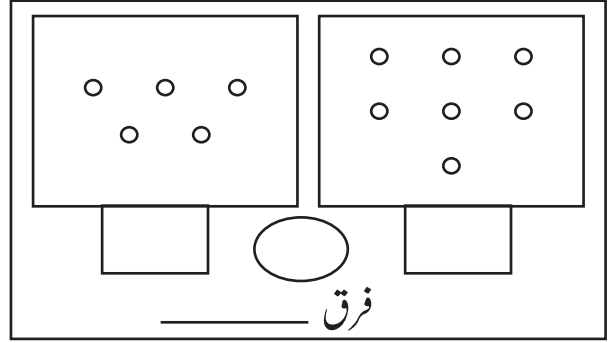
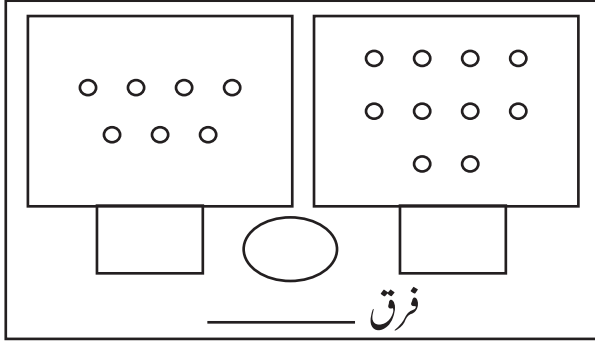
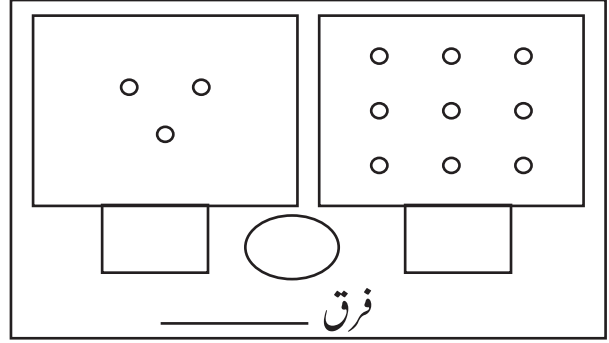
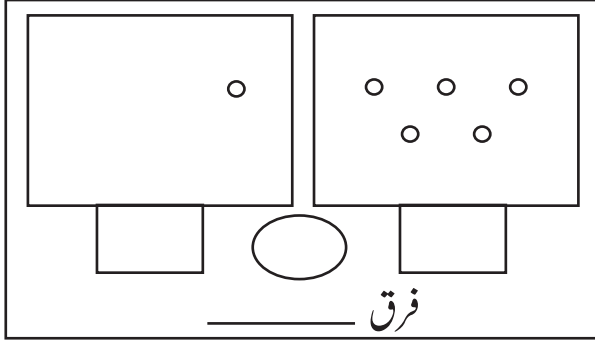
45	
----	--

45		47
----	--	----

ہدایات برائے تدریس: (1) موضوع کی سمجھ: عدد 41 سے 50 تک کا اعادہ۔ دن 105 کے مطابق کرائیں۔

(2) اجتماعی شغل: کارکردگی 6 دیکھیں۔

گن کر □ میں صیح عدد لکھئے ○ میں < یا > کا نشان بھرئیے اور فرق نکالئے



نشان کو سمجھ کر مناسب عدد ○ میں لکھئے۔

○	<	45
---	---	----

41	>	○
----	---	---

○	=	44
---	---	----

43	=	○
----	---	---

○	<	48
---	---	----

○	>	49
---	---	----

○	<	42
---	---	----

○	>	45
---	---	----

○	<	50
---	---	----

ہدایات برائے تدریس: (1) موضوع کی سمجھ: بڑے اعداد اور فرق (بورڈ پر) دن 106 کے مطابق کرائیں۔

مثال 1: 37 اور 43 میں مثال 2: 48 اور 46 میں۔ (2) اجتماعی شغل: کارکردگی 7 دیکھیں۔

سب سے چھوٹا عدد ○ میں اور سب سے بڑا عدد □ میں لکھئے۔

49	45	41	48
سب سے چھوٹا عدد ○			
سب سے بڑا عدد □			

42	40	43	28
سب سے چھوٹا عدد ○			
سب سے بڑا عدد □			

44	46	47	43
سب سے چھوٹا عدد ○			
سب سے بڑا عدد □			

34	38	32	35
سب سے چھوٹا عدد ○			
سب سے بڑا عدد □			

27	30	31	21
سب سے چھوٹا عدد ○			
سب سے بڑا عدد □			

46	43	40	45
سب سے چھوٹا عدد ○			
سب سے بڑا عدد □			



نشان <, >, = کو ○ میں بھرئے اور فرق نکالئے

46	○	41
_____ فرق		

45	○	49
_____ فرق		

44	○	47
_____ فرق		

41	○	44
_____ فرق		

50	○	50
_____ فرق		

46	○	43
_____ فرق		

ہدایات برائے تدریس:- (1) موضوع کی سمجھ:

سب سے چھوٹا سب سے بڑا عدد (پورڈ پر) دن 107 کے مطابق کرائیں۔ مثال: 1: 45, 29, 23, 16 میں۔

مثال 2: 43, 17, 48, 20 میں (2) اجتماعی شغل: کارکردگی 8 دیکھیں۔

47	45	41			
بڑھتی ترتیب			↑		

46	43	50			
گھٹتی ترتیب			↓		

47	48	42			
گھٹتی ترتیب			↓		

43	47	33			
بڑھتی ترتیب			↑		

41	31	20			
بڑھتی ترتیب			↑		

37	25	16			
گھٹتی ترتیب			↓		

اعداد کو صحیح ترتیب میں لکھئے۔

39	37	36	38	→	↑	36			
----	----	----	----	---	---	----	--	--	--

48	50	49	47	→	↓	50			
----	----	----	----	---	---	----	--	--	--

ہدایات برائے تدریس: (1) موضوع کی سمجھ: بڑھتے / گھٹتے ترتیب (بورڈ پر)۔ دن 108 کے مطابق کرائیں۔ مثال: 25, 49, 1; 35 میں بڑھتے ترتیب۔ مثال: 2: 24, 44, 37 میں گھٹتے ترتیب۔ (2) اجتماعی شغل: کا کردگی۔ 9 دیکھیں۔

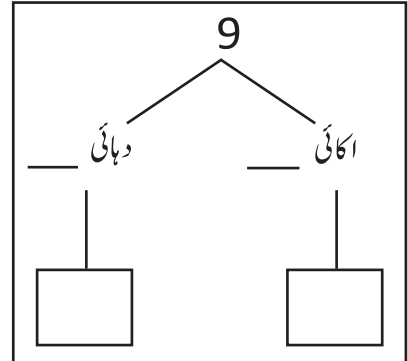
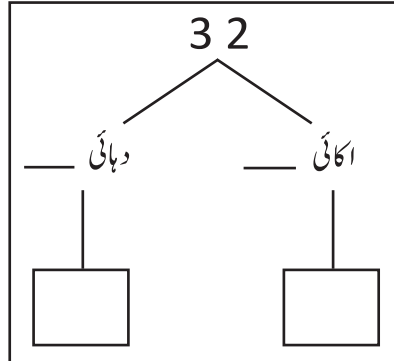
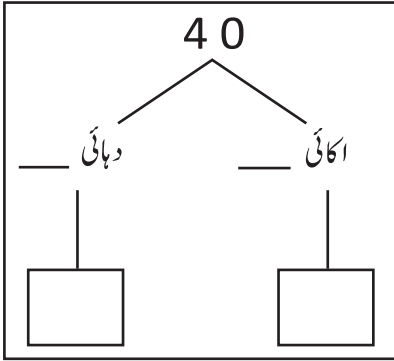
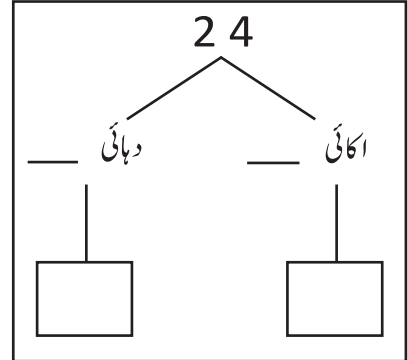
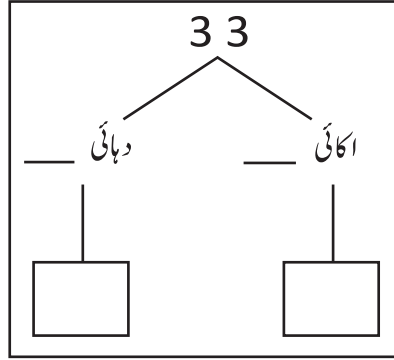
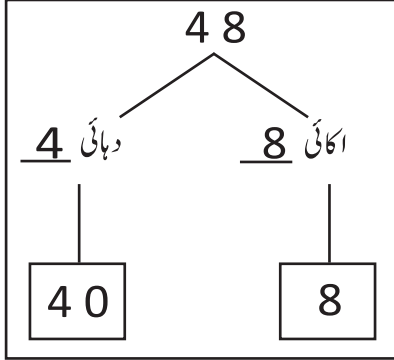
## حساب

درجہ-1

دن-129

سمجھئے اور لکھئے

تاریخ:



انڈر لائن ہندسہ کا مقامی قیمت لکھئے۔

عدد	مقامی قیمت
3 <u>8</u>	
<u>3</u> 3	
<u>2</u> 4	
<u>5</u> 0	
2 <u>7</u>	

عدد	مقامی قیمت
3 <u>2</u>	
4 <u>4</u>	
<u>4</u> 8	
<u>1</u> 9	
1 <u>3</u>	

ہدایات برائے تدریس: (1) موضوع کی سمجھ: مقامی قیمت (بورڈ پر)۔ دن 109 کے مطابق کرائیں۔

مثال: 30, 44, 47 میں (2) اجتماعی شغل: کارکردگی۔ 10 دیکھیں۔

4	دہائی	4	اکائی	=	44	17
3	دہائی	3	اکائی	=	32	33
3	دہائی	0	اکائی	=	03	30
3	دہائی	2	اکائی	=	32	23
1	دہائی	9	اکائی	=	29	19
5	دہائی	0	اکائی	=	50	30



عدد بنا کر لکھئے

1	دہائی	0	اکائی	10
4	دہائی	9	اکائی	
3	دہائی	5	اکائی	
7	دہائی	0	اکائی	
0	دہائی	9	اکائی	

3	دہائی	9	اکائی	
2	دہائی	0	اکائی	
2	دہائی	8	اکائی	
4	دہائی	0	اکائی	
5	دہائی	0	اکائی	

هدایات برائے تدریس: (1) موضوع کی سمجھ: مقامی قیمت (بورڈ پر) دن 109 کے مطابق کرائیں۔

مثال: 20, 24, 46 میں (2) اجتماعی شغل: کارکردگی-10 دیکھیں۔



## حساب

درجہ-1

دن-131

جوڑئیے، گھٹائیے

تاریخ:

$$\begin{array}{r} 7 \\ - 2 \\ \hline \\ \hline \end{array}$$

$$\begin{array}{r} 25 \\ + 14 \\ \hline \\ \hline \end{array}$$

$$\begin{array}{r} 33 \\ + 15 \\ \hline \\ \hline \end{array}$$

$$\begin{array}{r} 20 \\ + 16 \\ \hline \\ \hline \end{array}$$

$$\begin{array}{r} 18 \\ - 5 \\ \hline \\ \hline \end{array}$$

$$\begin{array}{r} 45 \\ + 05 \\ \hline \\ \hline \end{array}$$

$$\begin{array}{r} 19 \\ - 14 \\ \hline \\ \hline \end{array}$$

$$\begin{array}{r} 25 \\ + 22 \\ \hline \\ \hline \end{array}$$

$$\begin{array}{r} 45 \\ - 31 \\ \hline \\ \hline \end{array}$$

## ملان کیجئے

$$32 + 4$$

$$29$$

$$30 - 01$$

$$36$$

ہدایات برائے تدریس: (1) موضوع کی عہدہ: جوڑا اور گھٹاؤ۔ درج ذیل مثالوں کو ایک ایک کر کے بورڈ پر لکھیں۔ بچوں سے گفتگو کرتے ہوئے اسے حساب میں تبدیل کر کے اس کا جواب کالم وار جوڑ کر / گھٹا کر نکالیں۔ مثال 1: رانی کے پاس 27 سیب ہیں اس کی سہیلی میرا کے پاس 22 سیب ہیں۔ بتائیں دونوں کے پاس کل کتنے سیب ہیں؟ مثال 2: سنیل کے پاس 45 چاکلیٹ تھے۔ اس میں سے وہ 23 چاکلیٹ بچوں کے درمیان تقسیم کر دیا۔ بتائیے اب اس کے پاس کل کتنے چاکلیٹ بچیں؟ (2) اجتماعی شغل: کارکردگی۔ 12 دیکھیں

$$\begin{array}{r} 35 \\ + 06 \\ \hline \\ \hline \end{array}$$

$$\begin{array}{r} 47 \\ - 22 \\ \hline \\ \hline \end{array}$$

$$\begin{array}{r} 23 \\ + 16 \\ \hline \\ \hline \end{array}$$

$$\begin{array}{r} 38 \\ - 23 \\ \hline \\ \hline \end{array}$$

$$\begin{array}{r} 34 \\ + 15 \\ \hline \\ \hline \end{array}$$

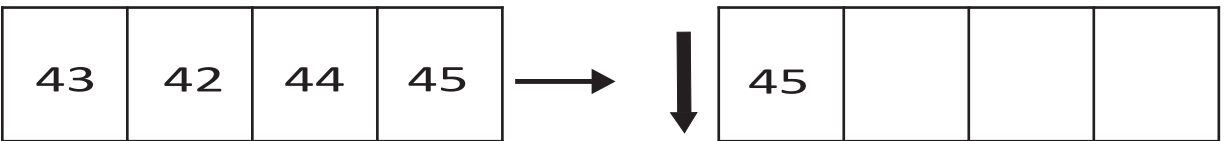
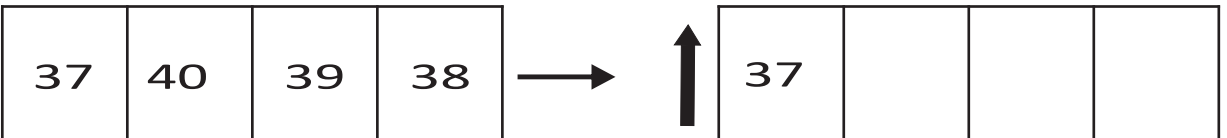
$$\begin{array}{r} 29 \\ - 23 \\ \hline \\ \hline \end{array}$$

$$\begin{array}{r} 31 \\ + 0 \\ \hline \\ \hline \end{array}$$

$$\begin{array}{r} 38 \\ - 35 \\ \hline \\ \hline \end{array}$$

$$\begin{array}{r} 19 \\ - 12 \\ \hline \\ \hline \end{array}$$

اعداد کو صحیح ترتیب میں لکھئے۔



**ہدایات برائے تدریس:** (1) موضوع کی سمجھ: جوڑ اور گھٹاؤ۔ درج ذیل مثالوں کو ایک ایک کر کے بورڈ پر لکھیں۔ بچوں سے گفتگو کرتے ہوئے اسے حساب میں تبدیل کر کے اس کا جواب کامل وار جوڑ کر لکھنا کر نکالیں۔ مثال 1: رامو کا نندار کے پاس پنسلیں ہیں۔ اس نے بازار سے 12 پنسلیں اور خریدی، بتائیے اس کے پاس کل کتنے پنسلیں ہیں۔  
2: سونی کے پاس 40 گولیاں تھیں۔ ان میں سے 25 گولیاں اس نے اپنی بہن کو دے دی، بتائیے اب اس کے پاس کل کتنی گولیاں باقی بچی؟  
مثال (2) اجتماعی شغل: کارکردگی۔ 12 دیکھیں۔

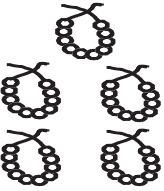

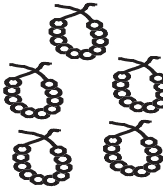
















## حساب

درجہ-1

دن-133

گنتے اور لکھئے





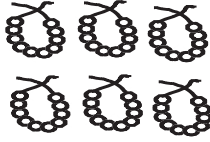





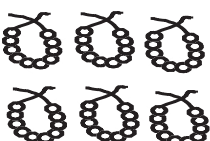

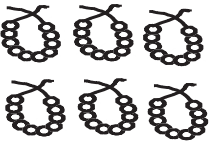

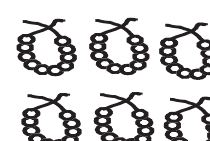



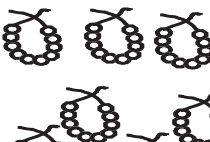
تاریخ:

 50	 1	51 51 51 51	  	
 	 		  	
 	 		  	
 	 		  	
 	 		 	60

ہدایات برائے تدریس:- (1) موضوع کی سمجھ:

عدد 51 سے 60- دن 101 کے مطابق کرائیں۔

(2) اجتماعی شغل: کارکردگی 6 دیکھیں۔

 <input type="text" value="60"/>	 <input type="text" value="1"/>	61	 <input type="text"/>	 <input type="text"/>	
 <input type="text"/>	 <input type="text"/>		 <input type="text"/>	 <input type="text"/>	
 <input type="text"/>	 <input type="text"/>		 <input type="text"/>	 <input type="text"/>	
 <input type="text"/>	 <input type="text"/>		 <input type="text"/>	 <input type="text"/>	
 <input type="text"/>	 <input type="text"/>		 <input type="text"/>		

ہدایات برائے تدریس:- (1) موضوع کی سمجھ:  
 عدد 61 سے 70- دن 102 کے مطابق کرائیں۔  
 (2) اجتماعی شغل: کارکردگی-6 دیکھیں۔

دھائی اور اکائی گن کر لکھئے، پھر عدد بنا کر نیچے  میں لکھئے

دھائی	اکائی

دھائی	اکائی

دھائی	اکائی

دھائی	اکائی

دھائی	اکائی

دھائی	اکائی

بڑھتی ترتیب کو پورا کیجئے


	42		44
--	----	--	----

	34		36
--	----	--	----

45		47	
----	--	----	--

		22	
--	--	----	--

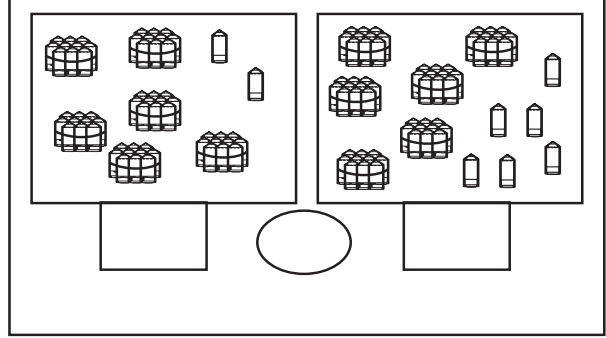
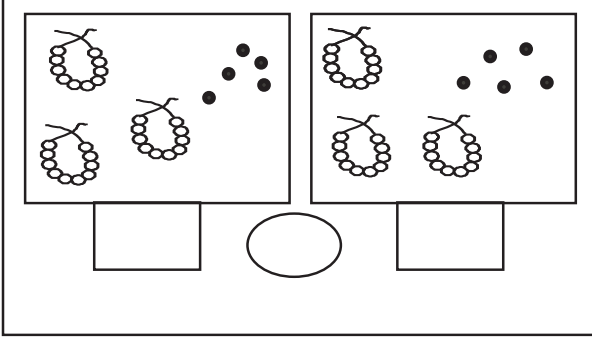
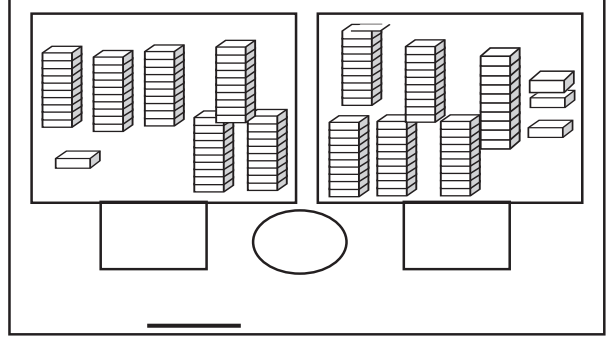
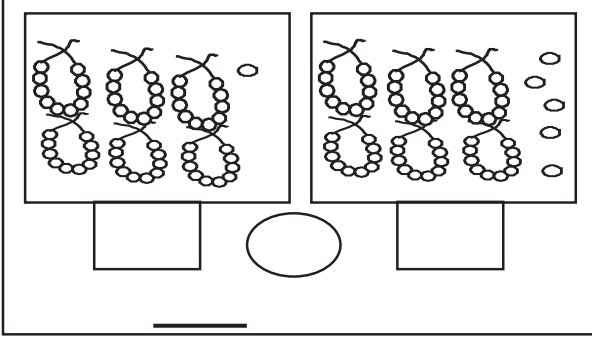
			50
--	--	--	----



	28		30
--	----	--	----

ہدایات برائے تدریس:- (1) موضوع کی سمجھ:  
عدد 51 سے 70- دن 102 کے مطابق کرائیں۔  
(2) اجتماعی شغل: کارکردگی-6 دیکھیں۔

گن کر باکس  میں صحیح عدد لکھئے  میں <، >، = کا نشان بہریں اور فرق ظاہر کریں



نشان کو سمجھ کر مناسب عدد  میں لکھیں۔

< 55

61 >

= 68

60 =

< 63

> 59

< 45

> 65

< 70

ہدایات برائے تدریس: (1) موضوع کی سمجھ: چھوٹے، بڑے اعداد اور فرق (بورڈ پر) دن 106 کے مطابق کرائیں۔  
مثال 1: 46 اور 53 میں۔ مثال 2: 64 اور 58 میں۔ (2) اجتماعی شغل: کارکردگی۔ 7 دیکھیں۔

## حساب

درجہ-1

تاریخ:

دن-137

سب سے چھوٹے عدد  میں اور سب سے بڑے اعداد  میں لکھیں

62	44	47	65
سب سے چھوٹا عدد <input type="radio"/>			
سب سے بڑا عدد <input type="checkbox"/>			




62	70	43	68
سب سے چھوٹا عدد <input type="radio"/>			
سب سے بڑا عدد <input type="checkbox"/>			

64	56	47	63
سب سے چھوٹا عدد <input type="radio"/>			
سب سے بڑا عدد <input type="checkbox"/>			

69	55	61	51
سب سے چھوٹا عدد <input type="radio"/>			
سب سے بڑا عدد <input type="checkbox"/>			

47	70	51	61
سب سے چھوٹا عدد <input type="radio"/>			
سب سے بڑا عدد <input type="checkbox"/>			

54	38	62	35
سب سے چھوٹا عدد <input type="radio"/>			
سب سے بڑا عدد <input type="checkbox"/>			



علامت <، > یا = کو  میں بھریں اور فرق نکالیں

66	<input type="radio"/>	61
_____ فرق		

55	<input type="radio"/>	59
_____ فرق		

64	<input type="radio"/>	64
_____ فرق		

63	<input type="radio"/>	67
_____ فرق		

70	<input type="radio"/>	65
_____ فرق		

53	<input type="radio"/>	58
_____ فرق		

هدایات برائے تدریس: (1) موضوع کی سمجھ: سب سے چھوٹا، سب سے بڑا عدد (بورڈ پر) دن 107 کے مطابق کرائیں۔  
مثال 1: 63, 67, 21, 34, 21, 34, 21 میں۔ مثال 2: 53, 42, 40, 68, 21 میں۔ (2) اجتماعی شغل: کارکردگی دیکھیں۔

67	55	61			
بڑھتی ترتیب			↑		

56	63	70			
گھٹتی ترتیب			↓		

62	58	53			
گھٹتی ترتیب			↓		

63	57	53			
بڑھتی ترتیب			↑		

51	61	69			
بڑھتی ترتیب			↑		

67	45	56			
گھٹتی ترتیب			↓		

اعداد کو صحیح ترتیب میں لکھئے

67	69	70	68	→	↑	67			
----	----	----	----	---	---	----	--	--	--

61	63	64	62	→	↓	64			
----	----	----	----	---	---	----	--	--	--

ہدایات برائے تدریس: (1) موضوع کی سمجھ: بڑھتی / گھٹتی ترتیب (بورڈ پر)۔ دن 108 کے مطابق کرائیں۔ مثال 1: 51, 48, 66, 66 میں بڑھتے ترتیب۔ مثال 2: 33, 69, 50 میں گھٹتے، ترتیب۔ (2) اجتماعی شغل: کارکردگی 9 دیکھیں۔





## حساب



درجہ-1



دن-139



گننے اور لکھنے



تاریخ:



		71
<input type="text" value="70"/>	<input type="text" value="1"/>	71
		71
		71



		
<input type="text"/>	<input type="text"/>	



		
<input type="text"/>	<input type="text"/>	



		
<input type="text"/>	<input type="text"/>	



		
<input type="text"/>	<input type="text"/>	

		
<input type="text"/>	<input type="text"/>	



		
<input type="text"/>	<input type="text"/>	

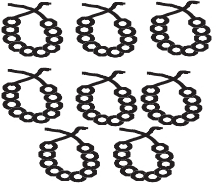

		
<input type="text"/>	<input type="text"/>	



		
<input type="text"/>	<input type="text"/>	



		
<input type="text"/>	<input type="text"/>	



ہدایات برائے تدریس:- (1) موضوع کی سمجھ:  
 عدد 71 سے 80- دن 101 کے مطابق کرائیں۔  
 اجتماعی شغل: کارکردگی 6 دیکھیں۔

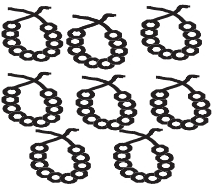

		
<input type="text"/>	<input type="text"/>	

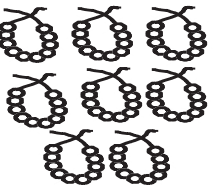

		
<input type="text"/>	<input type="text"/>	



		
<input type="text"/>	<input type="text"/>	



		
<input type="text"/>	<input type="text"/>	

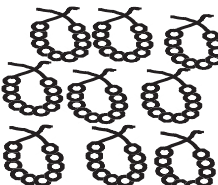
		
<input type="text"/>	<input type="text"/>	

		
<input type="text"/>	<input type="text"/>	





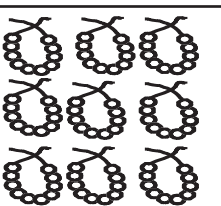

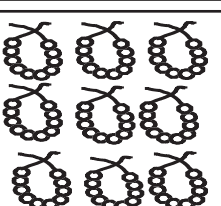

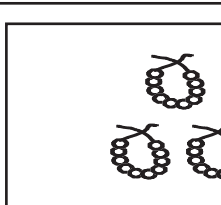





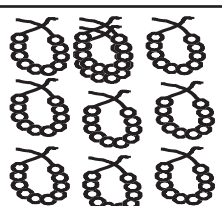



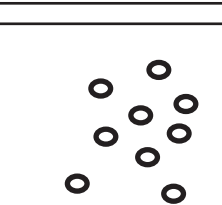

		
<input type="text"/>	<input type="text"/>	

		
<input type="text"/>	<input type="text"/>	

		
<input type="text"/>	<input type="text"/>	

		
<input type="text"/>	<input type="text"/>	

ہدایات برائے تدریس:- (1) موضوع کی سمجھ:  
 عدد 81 سے 90- دن 102 کے مطابق کرائیں۔  
 (2) اجتماعی شغل: کارکردگی 6 دیکھیں۔

 90	 1	91
 	 	
 	 	
 	 	
 	 	
 	 	
 	 	
 	 	
 	 	
 	 	

ہدایات برائے تدریس:- (1) موضوع کی سمجھ:

ہدایات برائے تدریس: (1) موضوع کی سمجھ: عدد 90 سے 99- دن 105 کے مطابق کرائیں۔

(2) اجتماعی شغل: کارکردگی-6 دیکھیں۔

گن کر  میں صحیح عدد لکھیں  کو میں < یا > کا نشان لگائیں اور فرق نکالیں۔

	<input type="checkbox"/>	<input type="radio"/>	<input type="checkbox"/>
_____ فرق			

	<input type="checkbox"/>	<input type="radio"/>	<input type="checkbox"/>
_____ فرق			

	<input type="checkbox"/>	<input type="radio"/>	<input type="checkbox"/>
_____ فرق			

	<input type="checkbox"/>	<input type="radio"/>	<input type="checkbox"/>
_____ فرق			

نشان کو سمجھ کر مناسب عدد  میں لکھیے

<input type="radio"/>	<	85
-----------------------	---	----

91	<input type="radio"/>
----	-----------------------

<input type="radio"/>	<	74
-----------------------	---	----

93	<	<input type="radio"/>
----	---	-----------------------

<input type="radio"/>	<	88
-----------------------	---	----

<input type="radio"/>	>	98
-----------------------	---	----

<input type="radio"/>	<	80
-----------------------	---	----

<input type="radio"/>	>	65
-----------------------	---	----

<input type="radio"/>		90
-----------------------	--	----

ہدایات برائے تدریس: (1) موضوع کی سمجھ: چھوٹے، بڑے عدد اور فرق (بورڈ پر) دن 106 کے مطابق کرائیں۔

مثال 1: 81 اور 87 میں۔ مثال 2: 69 اور 74 میں۔ (2) اجتماعی شغل: کارکردگی دیکھیں۔