

حساب

درجہ-1

دن-103

گنتے اور لکھنے

تاریخ:

<input type="text"/>	<input type="text"/>	

<input type="text"/>	<input type="text"/>	

<input type="text"/>	<input type="text"/>	

دھائی اور اکائی گن کر لکھنے پھر عدد بنا کر نیچے میں لکھئے۔

دھائی	اکائی	دھائی
<input type="text"/>	<input type="text"/>	<input type="text"/>

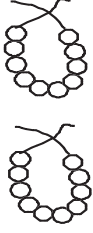

گنتے اور صحیح عدد پر لگائیے۔

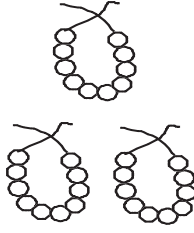
24	23	27

25	26	15


27	21	28

هدایات برائے تدریس: (1) موضوع کی سمجھ: عدد 28، 27، 26، 25 سے 21 تک کا اعادہ کرائیں (صرف گنتی پہچان اور تحریر)۔ پھر 28، 27، 26 کی سمجھ دھائی اور اکائی کا استعمال کرتے ہوئے ہر ایک عدد کا (i) گنتی پہچان اور تحریر (ii) پہلے اور بعد کے عدد (iii) کم اور زیادہ (دو دو اعداد میں) (iv) بغیر ترتیب کے بورڈ پر لکھ کر پہچان کرانا، ان مراحل کو لے کر کرائیں۔ (2) گروپ کے کام: کارکردگی 6 دیکھیں۔


		
□	□	

		
□	□	


دھائی بنائیے، دھائی اور اکائی گن کر لکھئے، پھر عدد بنا کر نیچے □ میں لکھئے

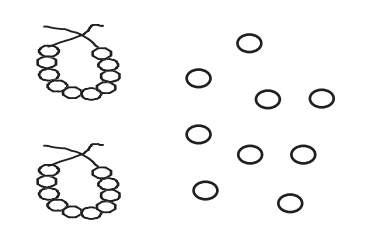
	
دھائی	اکائی
□	□

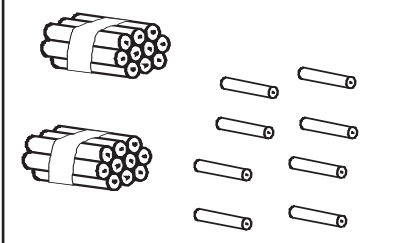
	
دھائی	اکائی
□	□

	
دھائی	اکائی
□	□

گنتے اور صحیح عدد پر ○ لگائیے

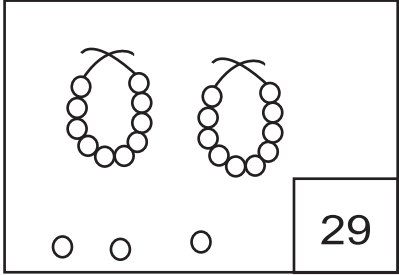
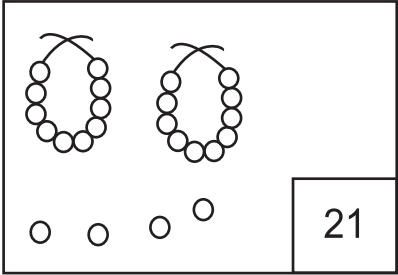
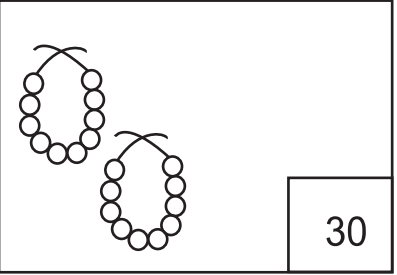
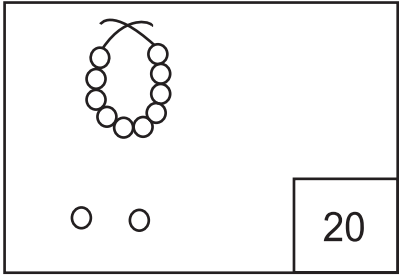
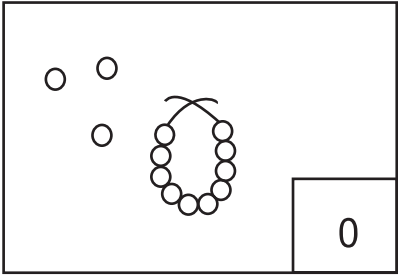
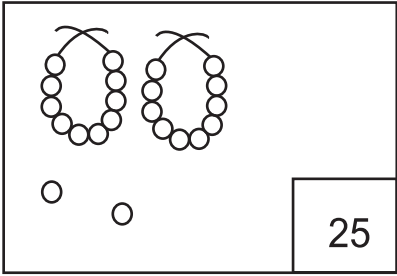
		
21	19	20

		
29	28	27

		
28	30	29

هدایات برائے تدریس: (1) موضوع کی سمجھ: عدد 30 اور 29 - 28 سے 21 تک کا اعادہ کرائیں (صرف گنتی، پہچان، تحریر)۔ پھر 29، 30 کی سمجھ دھائی اور اکائی کا استعمال کرتے ہوئے ہر ایک عدد کا (i) گنتی، پہچان اور تحریر (ii) پہلے اور بعد کے عدد (iii) کم اور زیادہ (دو، دو اعداد میں) (iv) بغیر ترتیب کے بورڈ پر لکھ کر پہچان کرانا۔ ان مراحل کو لے کر کرائیں۔ (2) گروپ کے کام: کارکردگی 6 دیکھیں۔

عدد کے مطابق موتی / مالا بنائیے یا کائے

		
29	21	30
		
20	0	25

ٹھیک پہلے کا عدد لکھئے

ٹھیک بعد کا عدد لکھئے

درمیان کا عدد لکھئے

12	13	17	18	28	29	30
	16	24		10		12
	20	21		26		28
	30	25		15		17

ہدایات برائے تدریس: (1) موضوع کی سمجھ: عدد 21 سے 30 کا اعادہ، دہائی اور اکائی کا استعمال کرتے ہوئے ہر ایک عدد کا (i) گنتی پہچان اور تحریر (ii) پہلے اور بعد کا عدد (iii) کم اور زیادہ (دو، دو اعداد میں) (iv) بغیر ترتیب کے بورڈ پر لکھ کر پہچان کرنا، ان مراحل کو لے کر کرائیں۔
نوٹ: اعادہ کے ہر ایک مرحلہ میں معلم پہلے بچوں سے پوچھے۔ (2) گروپ کے کام: کارکردگی 6 دیکھیں۔

گن کر میں صحیح عدد لکھئے، میں < یا > کا نشان بھرئے اور فرق نکالئے۔

22	25
<	
3 فرق	

<input type="checkbox"/>	<input type="checkbox"/>
○	
_____ فرق	

<input type="checkbox"/>	<input type="checkbox"/>
○	
_____ فرق	

<input type="checkbox"/>	<input type="checkbox"/>
○	
_____ فرق	

نشان سمجھ کر مناسب عدد میں لکھئے۔

<input type="radio"/>	<	25
-----------------------	---	----

21	>	<input type="radio"/>
----	---	-----------------------

<input type="radio"/>	<	24
-----------------------	---	----

17	<	<input type="radio"/>
----	---	-----------------------

<input type="radio"/>	<	18
-----------------------	---	----

<input type="radio"/>	=	29
-----------------------	---	----

ہدایات برائے تدریس:- (1) موضوع کی سمجھ: چھوٹے، بڑے عدد اور فرق (بورڈ پر) مثال: (19 اور 23 میں) دونوں اعداد کو بورڈ پر لکھ کر اس میں دہائی، اکائی پر گفتگو کریں۔ دہائی، دہائی اور اکائی، اکائی میں موازنہ کر کے (پہلے دہائی پھر اکائی میں) چھوٹے، بڑے اعداد معلوم کرائیں (جس عدد میں دہائی زیادہ ہوتی ہے وہ بڑا عدد ہوتا ہے۔ دہائی برابر ہونے پر اکائی میں موازنہ کریں) فرق نکالنے کے لئے چھوٹے عدد سے آگے کی گنتی کرتے ہوئے بڑے عدد تک جائیں۔ (2) گروپ کے کام: کارکردگی 7 دیکھیں۔

حساب

درجہ-1

تاریخ:

دن-107

سب سے چھوٹا عدد میں اور سب سے بڑا عدد میں لکھئے۔

29	25	21	28
سب سے چھوٹا عدد <input type="radio"/>			
سب سے بڑا عدد <input type="checkbox"/>			

12	10	13	18
سب سے چھوٹا عدد <input type="radio"/>			
سب سے بڑا عدد <input type="checkbox"/>			

26	13	30	17
سب سے چھوٹا عدد <input type="radio"/>			
سب سے بڑا عدد <input type="checkbox"/>			

24	26	27	23
سب سے چھوٹا عدد <input type="radio"/>			
سب سے بڑا عدد <input type="checkbox"/>			

14	18	12	15
سب سے چھوٹا عدد <input type="radio"/>			
سب سے بڑا عدد <input type="checkbox"/>			



27	20	21	11
سب سے چھوٹا عدد <input type="radio"/>			
سب سے بڑا عدد <input type="checkbox"/>			

○ میں صحیح نشان <، > یا = بھرنے اور فرق نکالئے۔

26	<input type="radio"/>	21
_____ فرق		

25	<input type="radio"/>	29
_____ فرق		

27	<input type="radio"/>	27
_____ فرق		

11	<input type="radio"/>	14
_____ فرق		

30	<input type="radio"/>	20
_____ فرق		

19	<input type="radio"/>	23
_____ فرق		

ہدایات برائے تدریس: (1) موضوع کی سمجھ: سب سے چھوٹا سب سے بڑا عدد (بورڈ پر) مثال (23، 9، 15، 27 میں) چاروں اعداد کو بورڈ پر لکھ کر اس میں دہائی، اکائی پر گفتگو کریں۔ دہائی، دہائی اور اکائی اکائی میں موازنہ کر کے (پہلے دہائی اور پھر اکائی میں) سب سے بڑا، سب سے چھوٹا عدد معلوم کریں (جس عدد میں دہائی سب سے زیادہ وہ سب سے بڑا عدد اور جس میں دہائی سب سے کم وہ سب سے چھوٹا عدد ہوتا ہے۔ دہائی برابر ہونے پر اکائی میں موازنہ کریں)۔ سب سے چھوٹے عدد پر گول اور سب سے بڑے عدد پر باکس رچو کو بنائیں۔ (2) گروپ کے کام: کارڈنگی 8 دیکھیں۔

27	25	21
بڑھتی ترتیب ↑		

26	23	30
گھٹتی ترتیب ↓		

27	25	21
گھٹتی ترتیب ↓		

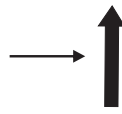
26	23	30
بڑھتی ترتیب ↑		

27	25	21
گھٹتی ترتیب ↑		

26	23	30
بڑھتی ترتیب ↓		

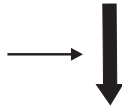
اعداد کو صحیح ترتیب میں لکھئے۔

18	15	17	16
----	----	----	----



15			
----	--	--	--

30	27	29	30
----	----	----	----



30			
----	--	--	--

ہدایات برائے تدریس: (1) موضوع کی سمجھ: بڑھتے/گھٹتے ترتیب (تین اعداد میں، بورڈ پر)۔ مثال (18، 7، 24 میں) دئے گئے اعداد کو بورڈ پر لکھیں۔ بڑھتے ترتیب کا نشان بتاتے ہوئے تین باکس بورڈ پر بنائیں۔ دہائی، دہائی اور اکائی، اکائی میں موازنہ کرتے ہوئے سب سے چھوٹا عدد شروع کے باکس میں اس سے تھوڑا بڑا عدد درمیان کے باکس میں اور سب سے بڑا عدد آخر کے باکس میں لکھیں۔ پھر بڑھتے ترتیب میں تینوں اعداد کے آپسی تعلق کو بتائیں جیسے 21، 25، 27 میں 21 سب سے چھوٹا ہے 27 سب سے بڑا ہے اور 25 عدد 21 سے بڑا لیکن 27 سے چھوٹا ہے۔ اسی طرح سے گھٹتے ترتیب کی سمجھ دیں۔ (2) گروپ کے کام: کارکردگی 9 دیکھیں۔

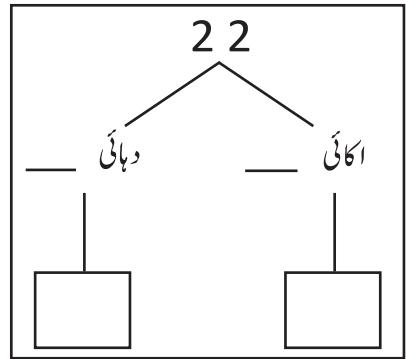
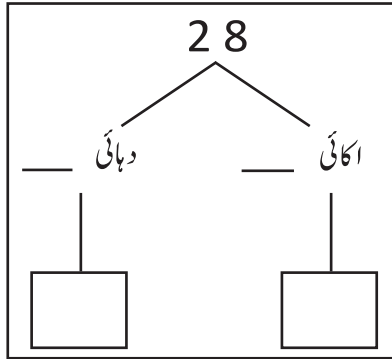
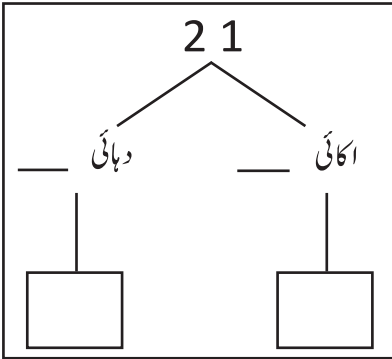
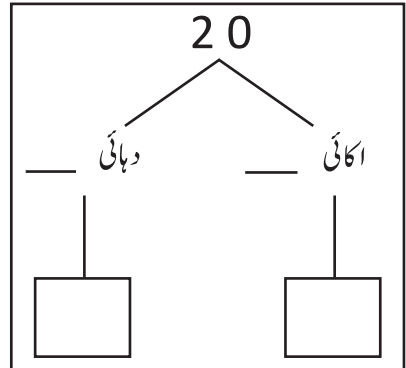
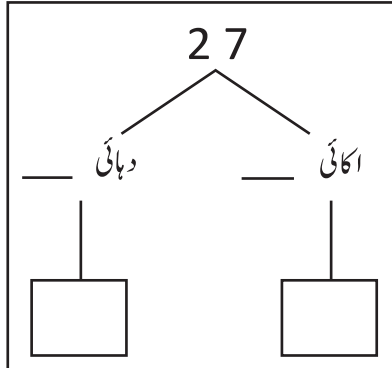
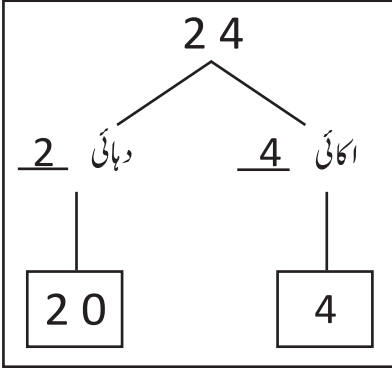
حساب

درجہ-1

دن-109

سمجھئے اور لکھئے۔

تاریخ:



انڈر لائن ہندسہ کی مقامی قیمت لکھئے۔

عدد	مقامی قیمت
2 <u>8</u>	
<u>2</u> 1	
1 <u>7</u>	
2 <u>9</u>	
1 <u>2</u>	

عدد	مقامی قیمت
2 <u>1</u>	
2 <u>3</u>	
<u>3</u> 0	
<u>4</u>	
<u>2</u> 2	

ہدایات برائے تدریس: (1) موضوع کی سمجھ: مقامی قیمت (24, 22, 18 میں) (مثال: 24 میں) مشقی کتاب میں آج کے دن دئے گئے خاکے کو بورڈ پر بنا کر سمجھادیں۔ بچوں سے گفتگو کریں کہ 24 میں کتنے دہائی اور کتنے اکائی ہیں؟ 2 دہائی 14 اکائی۔ 2 دہائی میں کل کتنی چیزیں ہوں گی؟ 20، 14 اکائی میں کل کتنی چیزیں ہوں گی؟ 4، پھر بچوں کو سمجھائیں کہ 24 میں 2 کی مقامی قیمت 20 ہے اور 4 کی مقامی قیمت 4 ہے۔ اسی طرح دیگر دو مثالوں کو سمجھائیں (2) اجتماعی شغل: کارکردگی 10 دیکھیں۔

صحیح عدد پر ○ لگائیے

1	دہائی	4	اکائی	=	41	○ 14
2	دہائی	3	اکائی	=	23	32
3	دہائی	0	اکائی	=	03	30
1	دہائی	9	اکائی	=	29	19
2	دہائی	0	اکائی	=	20	02
2	دہائی	6	اکائی	=	16	26



عدد بنا کر لکھئے

1	دہائی	5	اکائی	15
2	دہائی	3	اکائی	
1	دہائی	7	اکائی	
8	دہائی		اکائی	
2	دہائی	0	اکائی	

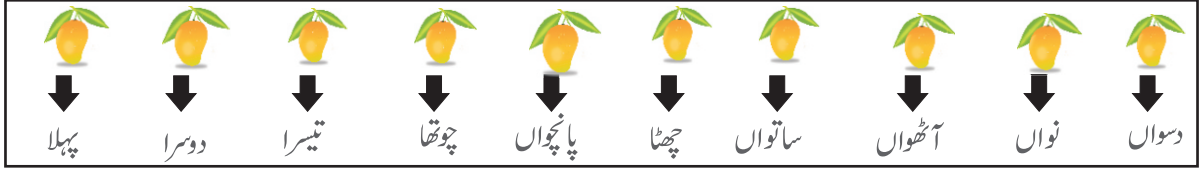
2	دہائی	7	اکائی	
1	دہائی	4	اکائی	
3	دہائی		اکائی	
3	دہائی	0	اکائی	
2	دہائی	8	اکائی	

ہدایات برائے تدریس:- (1) موضوع کی سمجھ:


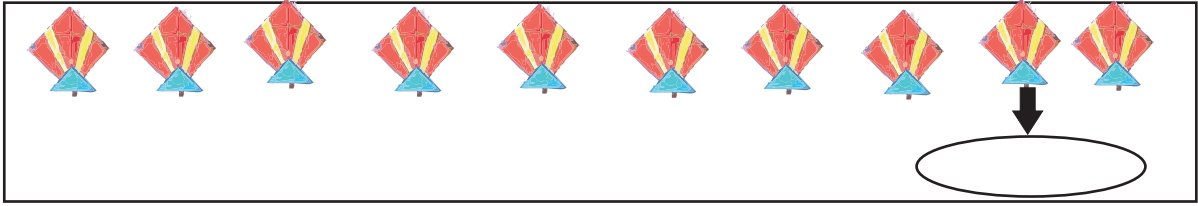
(1) موضوع کی سمجھ: مقامی قیمت (20, 11, 29) میں دن 109 کے مطابق کرائیں۔

(2) اجتماعی مشق: کارکردگی-10 دیکھیں۔

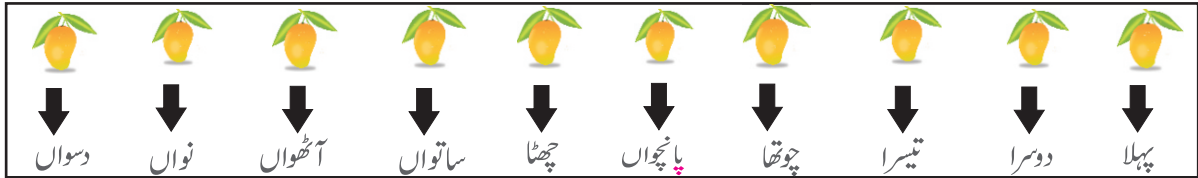
گننے سمت



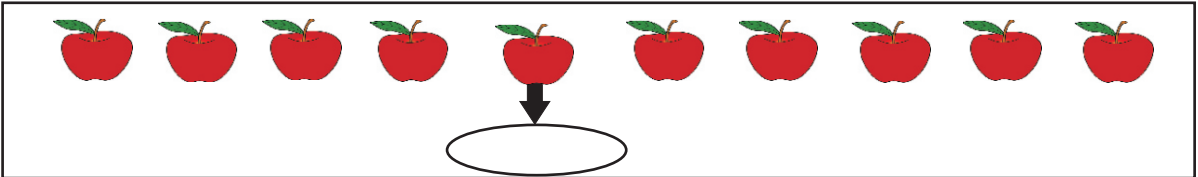
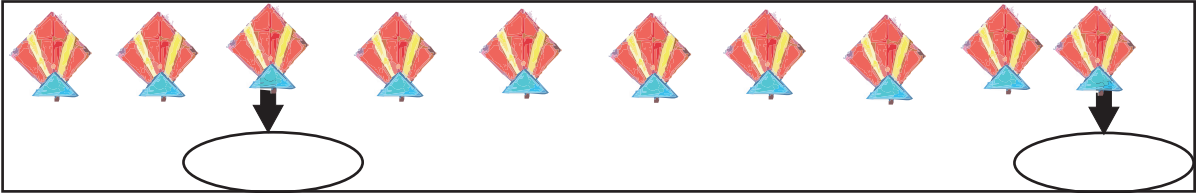
چیزوں کا مقام اس کے نیچے کے میں لکھئے۔



گننے کا سمت



چیزوں کا مقام اس کے نیچے کے میں لکھئے



هدایات برائے تدریس: (1) موضوع کی سمجھ: اسمائے اعداد (10 تک) درجہ کے دس بچوں کو آگے بلا کر ایک قطار میں کھڑا کریں۔ ایک طرف سے 1, 2, 3, ----, 10 تک کی گنتی کریں۔ (بچوں کے بغل میں کھڑا ہو کر بائیں سے دائیں کی طرف) پھر اسی سمت سے پہلا، دوسرا، تیسرا، --- دسواں الفاظ کا استعمال کرتے ہوئے گنتی کریں۔ پھر بچوں سے اسمائے اعداد کا مشق کرائیں۔ (2) اجتماعی شغل: کارکردگی۔ 11 دیکھیں۔

	چوتھا

باکس میں لکھے مقام کے مطابق صحیح تصویر پر (X) کا نشان لگائیے۔

	تیسرا
	ساتواں
	نواں

دیکھئے، سمجھئے اور جواب دیجئے

گننے کا سمت →

چابی	آم	گھڑی	گیند	پتنگ	کنگھا	سیب	تالا
چابی	پہلے مقام پر کیا ہے؟	دوسرے مقام پر کیا ہے؟					
	پانچویں مقام پر کیا ہے؟	آٹھویں مقام پر کیا ہے؟					
	تیسرے مقام پر کیا ہے؟	چھٹا مقام پر کیا ہے؟					

ہدایات برائے تدریس:- (1) موضوع کی سمجھ:

(1) موضوع کی سمجھ: اسمائے اعداد (10 تک)۔ دن 111 کے مطابق کرائیں۔

(2) اجتماعی شغل: کارکردگی-11 دیکھیں

حساب

درجہ-1

دن-113

جوڑ، گھٹاؤ

تاریخ:

$$\begin{array}{r} 29 \\ - 15 \\ \hline \\ \hline \end{array}$$

$$\begin{array}{r} 17 \\ + 2 \\ \hline \\ \hline \end{array}$$

$$\begin{array}{r} 13 \\ + 5 \\ \hline \\ \hline \end{array}$$

$$\begin{array}{r} 10 \\ + 10 \\ \hline \\ \hline \end{array}$$

$$\begin{array}{r} 19 \\ - 15 \\ \hline \\ \hline \end{array}$$

$$\begin{array}{r} 15 \\ + 1 \\ \hline \\ \hline \end{array}$$

$$\begin{array}{r} 18 \\ - 13 \\ \hline \\ \hline \end{array}$$

$$\begin{array}{r} 14 \\ + 3 \\ \hline \\ \hline \end{array}$$

$$\begin{array}{r} 27 \\ - 14 \\ \hline \\ \hline \end{array}$$

ملان لیجئے

$$12 + 4$$

$$19$$

$$20 - 0$$

$$16$$

$$15 + 4$$

$$20$$

ہدایات برائے تدریس: (1) موضوع کی سمجھ: جوڑ اور گھٹاؤ۔ درج ذیل مثالوں کو ایک کر کے بورڈ پر لکھیں۔ بچوں سے گفتگو کرتے ہوئے اسے حساب میں تبدیل کر اس کا جواب کالم کے مطابق جوڑ کر/گھٹا کر نکالیں۔ مثال 1: ایک دکاندار کے پاس 16 پستے ہیں، اس نے بازار سے 13 پستے اور خریدیں بتائیے اب اس کے پاس کل کتنے پستے ہیں؟ مثال 2: رامو کے پاس 27 بکریاں تھیں اس میں سے اس نے 15 بکریاں فروخت کر دی، بتائیے اب اس کے پاس کتنی بکریاں باقی بچے؟ (2) اجتماعی شغل: کارکردگی۔ 12 دیکھیں۔

$$\begin{array}{r} 15 \\ + 4 \\ \hline \\ \hline \end{array}$$

$$\begin{array}{r} 19 \\ - 14 \\ \hline \\ \hline \end{array}$$

$$\begin{array}{r} 23 \\ + 03 \\ \hline \\ \hline \end{array}$$

$$\begin{array}{r} 26 \\ - 23 \\ \hline \\ \hline \end{array}$$

$$\begin{array}{r} 13 \\ + 15 \\ \hline \\ \hline \end{array}$$

$$\begin{array}{r} 28 \\ - 13 \\ \hline \\ \hline \end{array}$$

$$\begin{array}{r} 20 \\ - 10 \\ \hline \\ \hline \end{array}$$

$$\begin{array}{r} 17 \\ - 7 \\ \hline \\ \hline \end{array}$$

$$\begin{array}{r} 19 \\ - 16 \\ \hline \\ \hline \end{array}$$

اعداد کو ترتیب میں لکھئے

9	10	7	8	→	↓	10			
---	----	---	---	---	---	----	--	--	--

28	29	30	27	→	↑	27			
----	----	----	----	---	---	----	--	--	--

ہدایات برائے تدریس: (1) موضوع کی سمجھ: جوڑا اور گھٹاؤ۔ لئے گئے مثال کو ایک ایک کر کے بورڈ پر لکھیں۔ بچوں سے گفتگو کرتے ہوئے اسے حساب میں تبدیل کر کے اس کا جواب کالم کے مطابق جوڑ کر/گھٹا کر نکالیں۔ مثال 1: رادھا کے پاس 14 آم ہے اس کے والد نے اسے 15 آم اور دیئے۔ بتائیے اس کے پاس اب کل کتنے آم ہیں؟ مثال 2: سنیل کے پاس 28 مرغیاں تھیں۔ ان میں سے 12 مرغیاں گئی، بتائیے اس کے پاس اب کتنی مرغیاں بچیں؟ (2) اجتماعی شغل: کارکردگی۔ 12 دیکھیں۔






حساب






درجہ-1






دن-115






گنتے اور لکھتے






تاریخ:

		31
		31
		31
		31
<input type="text" value="30"/>	<input type="text" value="1"/>	<input type="text"/>

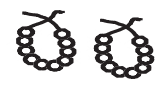

		
		
		
		
<input type="text"/>	<input type="text"/>	<input type="text"/>

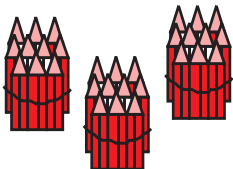

		
		
		
		
<input type="text"/>	<input type="text"/>	<input type="text"/>

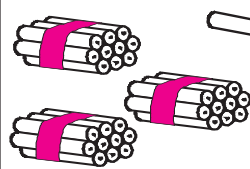

		
		
		
		
<input type="text"/>	<input type="text"/>	<input type="text"/>

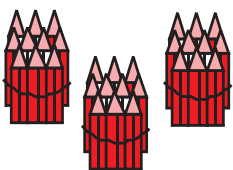

		
		
		
		
<input type="text"/>	<input type="text"/>	<input type="text"/>

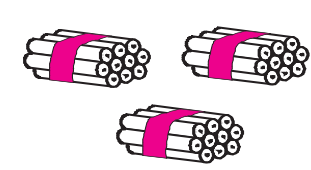

دھائی اور اکائی گن کر لکھئے، پھر عدد بنا کر نیچے میں لکھئے۔

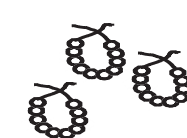

	
دھائی	اکائی
<input type="text"/>	<input type="text"/>

	
دھائی	اکائی
<input type="text"/>	<input type="text"/>

	
دھائی	اکائی
<input type="text"/>	<input type="text"/>

	
دھائی	اکائی
<input type="text"/>	<input type="text"/>

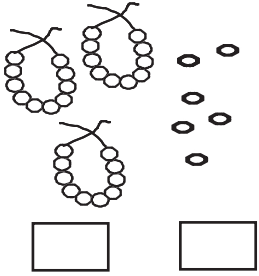
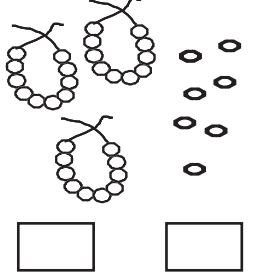
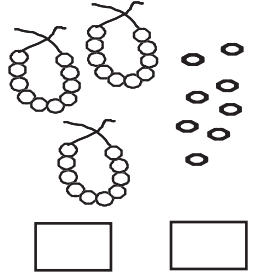
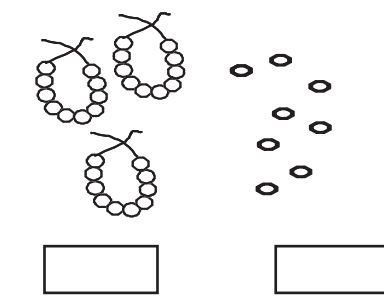
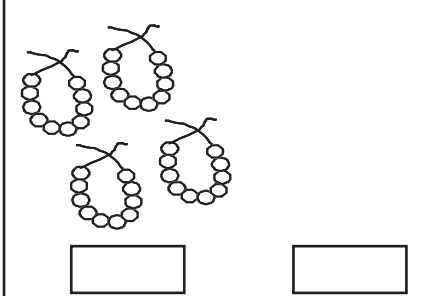
	
دھائی	اکائی
<input type="text"/>	<input type="text"/>

	
دھائی	اکائی
<input type="text"/>	<input type="text"/>

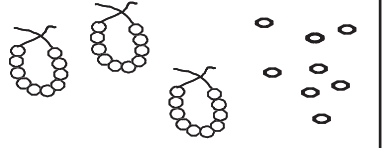
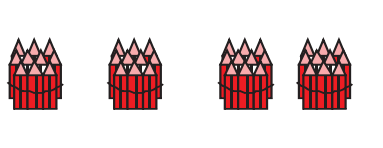

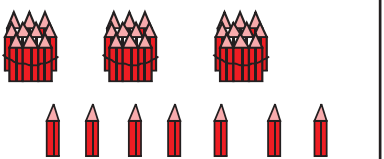
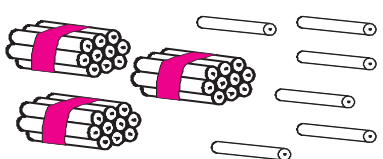
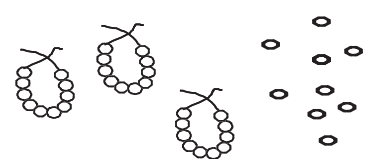
ہدایات برائے تدریس:- (1) موضوع کی سمجھ:

(1) موضوع کی سمجھ: عدد 31 سے 35- دن 101 کے مطابق کرائیں۔

(2) اجتماعی شغل: کارکردگی 6 دیکھیں

		
<input type="text"/> <input type="text"/>	<input type="text"/> <input type="text"/>	<input type="text"/> <input type="text"/>
		<input type="text"/> <input type="text"/> <input type="text"/>

دھائی اور اکائی لکھئے، پھر عدد بنا کر نیچے میں لکھئے

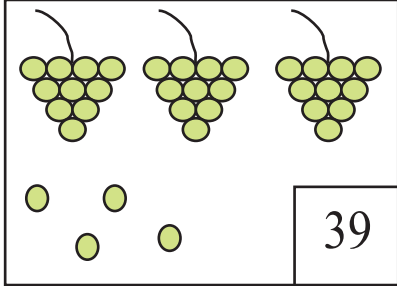
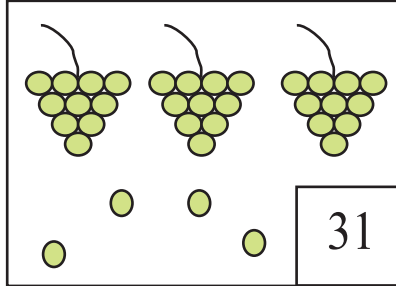
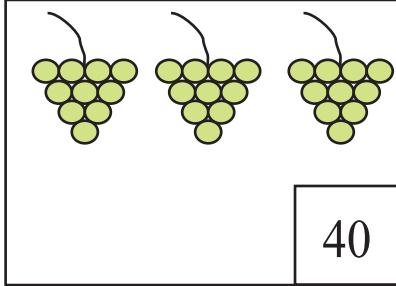
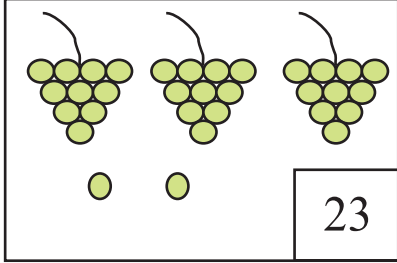
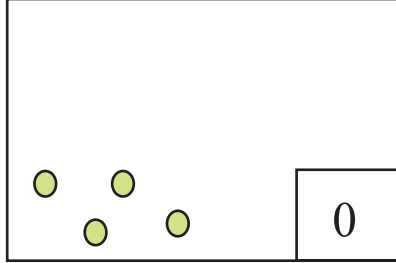
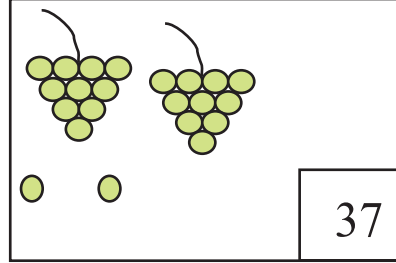
		
دھائی اکائی <input type="text"/> <input type="text"/>	دھائی اکائی <input type="text"/> <input type="text"/>	دھائی اکائی <input type="text"/> <input type="text"/>
		
دھائی اکائی <input type="text"/> <input type="text"/>	دھائی اکائی <input type="text"/> <input type="text"/>	دھائی اکائی <input type="text"/> <input type="text"/>

ہدایات برائے تدریس:- (1) موضوع کی سمجھ:

(1) موضوع کی سمجھ: عدد 36 سے 40، دن 102 کے مطابق کرائیں۔

(2) اجتماعی شغل: کارکردگی-6 دیکھیں۔

عدد کے مطابق موتی یا مالا بنائیے یا کائے

		
39	31	40
		
23	0	37

ٹھیک پہلے کا عدد لکھئے

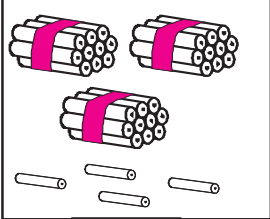
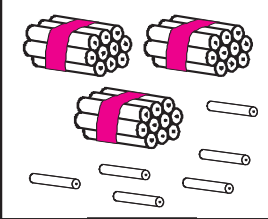
ٹھیک بعد کا عدد لکھئے

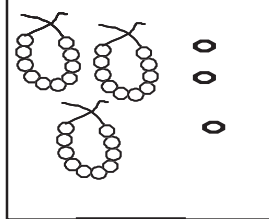
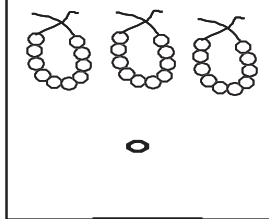
درمیانی عدد لکھئے

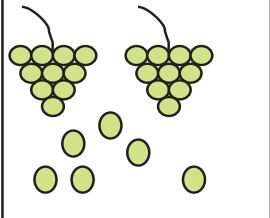
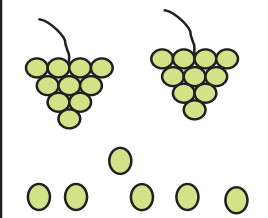
	33	38		39		40
	36	34		30		32
	40	31		36		38
	30	35		35		37

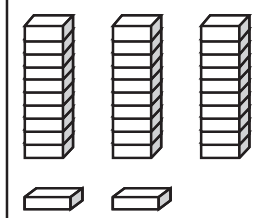
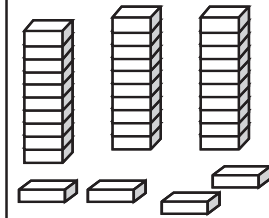
هدایات برائے تدریس: (1) موضوع کی سمجھ: سب سے چھوٹا سب سے بڑا عدد (بورڈ پر) دن 107 کے مطابق کرائیں۔ مثال 1:
16, 23, 29, 45 میں۔ مثال 2: 20, 48, 17, 43 میں۔ (2) اجتماعی شغل: کارکردگی 8 دیکھیں۔

گن کر میں صحیح عدد لکھئے، میں < یا > کا نشان بھرئیے اور فرق نکالئے۔

	
<input type="checkbox"/>	<input type="checkbox"/>
<input type="radio"/>	
_____ فرق	

	
<input type="checkbox"/>	<input type="checkbox"/>
<input type="radio"/>	
_____ فرق	

	
<input type="checkbox"/>	<input type="checkbox"/>
<input type="radio"/>	
_____ فرق	

	
<input type="checkbox"/>	<input type="checkbox"/>
<input type="radio"/>	
_____ فرق	

علامت سمجھ کر مناسب عدد میں لکھیں۔

< 25

31 >

< 34

33 =

< 28

> 39

< 15

> 25

= 40

ہدایات برائے تدریس:- (1) موضوع کی سمجھ:

چھوٹے بڑے عدد اور فرق (بورڈ پر)۔ دن 106 کے مطابق کرائیں۔ مثال 1: 32 اور

27 میں مثال 2: 34 اور 37 میں۔ (2) اجتماعی شغل: کارکردگی۔ 7 دیکھیں۔

حساب

درجہ-1

تاریخ:

دن-119

سب سے چھوٹا عدد میں اور سب سے بڑا عدد میں لکھئے۔

39	35	21	38
سب سے چھوٹا عدد <input type="radio"/>			
سب سے بڑا عدد <input type="checkbox"/>			

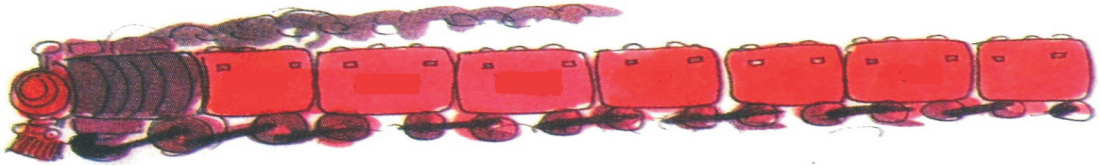
32	20	23	18
سب سے چھوٹا عدد <input type="radio"/>			
سب سے بڑا عدد <input type="checkbox"/>			

36	23	40	15
سب سے چھوٹا عدد <input type="radio"/>			
سب سے بڑا عدد <input type="checkbox"/>			

34	36	37	33
سب سے چھوٹا عدد <input type="radio"/>			
سب سے بڑا عدد <input type="checkbox"/>			

24	28	22	25
سب سے چھوٹا عدد <input type="radio"/>			
سب سے بڑا عدد <input type="checkbox"/>			

37	20	11	21
سب سے چھوٹا عدد <input type="radio"/>			
سب سے بڑا عدد <input type="checkbox"/>			



نشان < یا > کو میں بھرئیے اور فرق نکالئے۔

26	<input type="radio"/>	31
فرق _____		

35	<input type="radio"/>	35
فرق _____		

34	<input type="radio"/>	37
فرق _____		


18	<input type="radio"/>	14
فرق _____		


30	<input type="radio"/>	40
فرق _____		


29	<input type="radio"/>	25
فرق _____		


هدایات برائے تدریس: (1) موضوع کی سمجھ: سب سے چھوٹا سب سے بڑا عدد (بورڈ پر)۔ دن 107 کے مطابق کرائیں۔


مثال 1: 23, 9, 15, 38 میں۔ مثال 2: 13, 36, 17, 32 میں۔ (2) اجتماعی شغل: کارکردگی۔ 8 دیکھیں۔


37	35	31
		
بڑھتی ترتیب		

36	33	40
		
گھٹتی ترتیب		


32	38	22
		
گھٹتی ترتیب		


23	27	33
		
بڑھتی ترتیب		

27	16	21
		
بڑھتی ترتیب		

35	15	30
		
گھٹتی ترتیب		

اعداد کو صحیح ترتیب میں لکھئے۔

28	30	31	29	→		28			
----	----	----	----	---	---	----	--	--	--

37	40	39	38	→		40			
----	----	----	----	---	---	----	--	--	--

هدایات برائے تدریس: (1) موضوع کی سمجھ: بڑھتے / گھٹتے ترتیب (بورڈ پر)۔ 108 کے مطابق کرائیں۔

مثال 1: 38, 24, 27 میں بڑھتے ترتیب۔ مثال 2: 24, 39, 31 میں گھٹتے ترتیب۔ (2) اجتماعی شغل: کارکردگی 9 دیکھیں۔

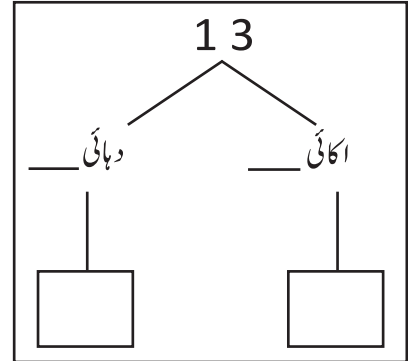
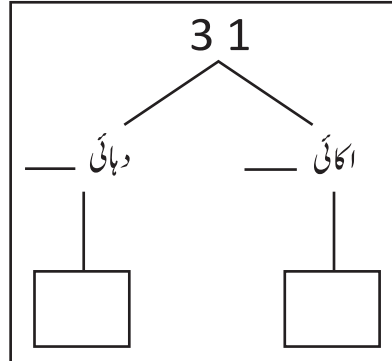
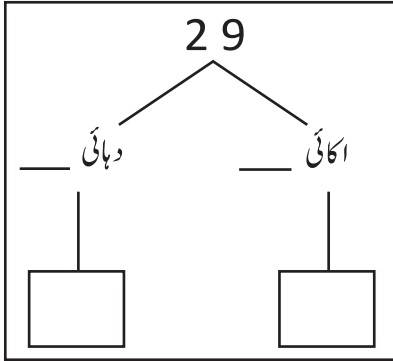
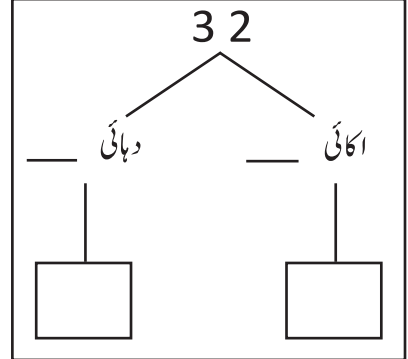
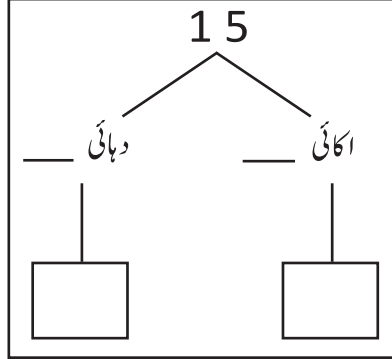
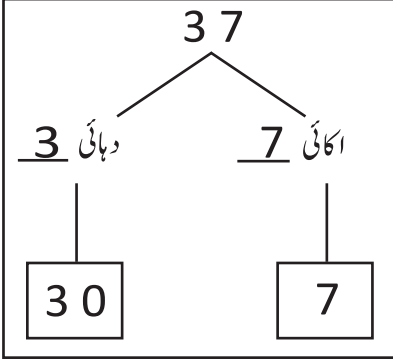
حساب

درجہ-1

دن-121

سمجھیں اور لکھیں

تاریخ:



نشان زدہندسہ کامقامی قیمت لکھئے۔

عدد	مقامی قیمت
38	
33	
24	
25	
16	

عدد	مقامی قیمت
27	
32	
38	
9	
40	

ہدایات برائے تدریس: (1) موضوع کی سمجھ: عدد 41 سے 45۔ دن 101 کے مطابق کرائیں۔

(2) اجتماعی شغل: کارکردگی 6 دیکھیں۔

صحیح عدد پر لگائیے

1	دہائی	6	اکائی	=	17	16
2	دہائی	3	اکائی	=	23	32
4	دہائی	0	اکائی	=	04	40
3	دہائی	5	اکائی	=	35	25
0	دہائی	9	اکائی	=	09	90
3	دہائی	8	اکائی	=	28	38



عدد بنا کر لکھئے

4	دہائی	0	اکائی	40
3	دہائی	5	اکائی	
2	دہائی	7	اکائی	
0	دہائی	8	اکائی	
2	دہائی	3	اکائی	

2	دہائی	9	اکائی	
2	دہائی	7	اکائی	
3	دہائی	8	اکائی	
4	دہائی	0	اکائی	
3	دہائی	0	اکائی	

هدایات برائے تدریس: (1) موضوع کی سمجھ: مقامی قیمت (بورڈ پر)۔ دن 109 کے مطابق کرائیں۔

مثال: 32, 33, 20 میں۔ (2) اجتماعی شغل۔ کارکردگی 10 دیکھیں۔